

さんすう

たしざんとひきざん 10
どんな けいさんになるのかな



なまえ

ステップ 1

○ えやずをみて しきをかながえる。

10 - 1 ~ 3

ステップ 2 ためしのがくしゅう

① えで もんだいをかながえる。

えずやテープずで しきをかながえる。

ことばで しきをあらわす。

10 - 4 · 5

ステップ 3 えらんでする

① えずで かながえる。

10 - 6 ~ 8

② えずとテープずで かながえる。

10 - 9 ~ 11

③ テープずで かながえる。

10 - 12 ~ 14

ステップ 4

① えやずをかいて かながえる。

10 - 15 ~ 17

ずをみてしきをかんがえる

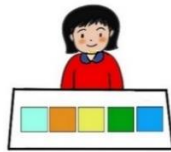
おりがみを 5まい もっていました。

ともだちに もらって 8まいに なりました。

もらった おりがみは なんまいですか。



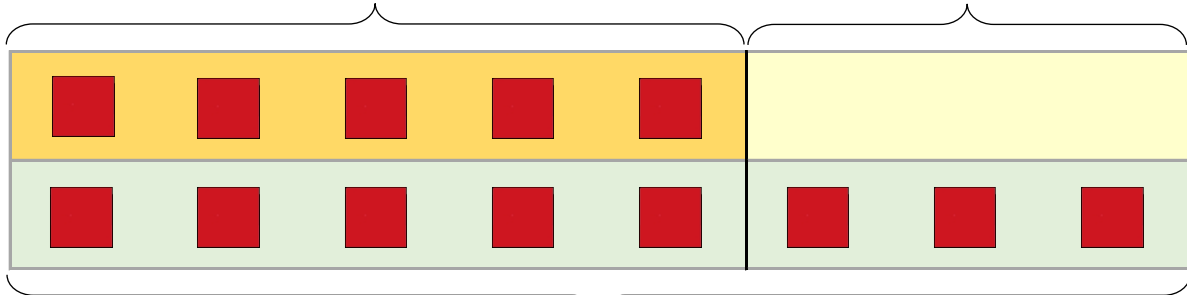
に かずを かいて、しきを つくりましょう。



[もっていた おりがみ 5まい]



[もらった おりがみ まい]



[ぜんぶの おりがみ 8まい]

ぜんぶの おりがみを みつけるしき

$$5 + \boxed{} = 8$$

もっていた おりがみを みつけるしき

$$8 - \boxed{} = 5$$

もらった おりがみを みつけるしき

$$8 - 5 = \boxed{}$$

ずをみてしきをかんがえる

えんぴつを 2ほん もっていました。


おねえさんに なんぼんか もらったので

5ほんに なりました。

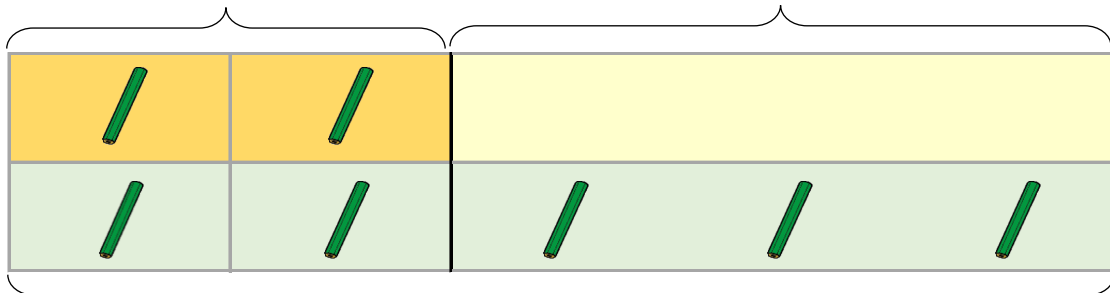
えんぴつは なんぼん もらいましたか。



に かずを かいて、しきを つくりましょう。



[もっていた えんぴつ 2ほん] [もらった えんぴつ ほん]



[ぜんぶの えんぴつ 5ほん]

ぜんぶの えんぴつを みつけるしき

$$2 \quad \boxed{} \quad \boxed{} = 5$$

もっていた えんぴつを みつけるしき

$$5 \quad \boxed{} \quad \boxed{} = 2$$

もらった えんぴつを みつけるしき

$$5 \quad \boxed{} \quad 2 = \boxed{}$$

ずを みて しきを かんがえる

かきが 7こ あります。

なんこか かってきたので

ぜんぶで 10こに なりました。

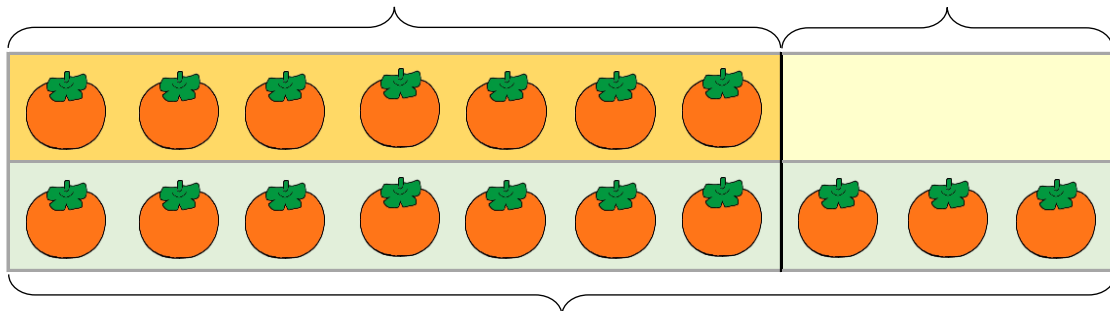
かってきた かきは なんこですか。



に かずを かいて、しきを つくりましょう。

[はじめにあった かき 7こ]

[かった かき こ]



ぜんぶの かきを みつけるしき

$$7 \quad \boxed{} \quad \boxed{} = 10$$

はじめにあった かきを みつけるしき

$$10 \quad \boxed{} \quad \boxed{} = 7$$

かった かきを みつけるしき

$$10 \quad \boxed{} \quad 7 = \boxed{}$$

きのう はなが 3つ さいていました。

きょうは 7つ さいています。

はなは いくつ ふえましたか。



1 もんだいを かんがえる。

○ たずねていることばを で かこむ。

○ 2つのかずに せんを ひく。

○ たずねていることばと 2つのかずに かく。

たずねていることば


2つのかず

[]

[]

○ たずねていることと 2つのかずに かく。

[きのう 3つ さいていた] [きょう 7つ さいている]

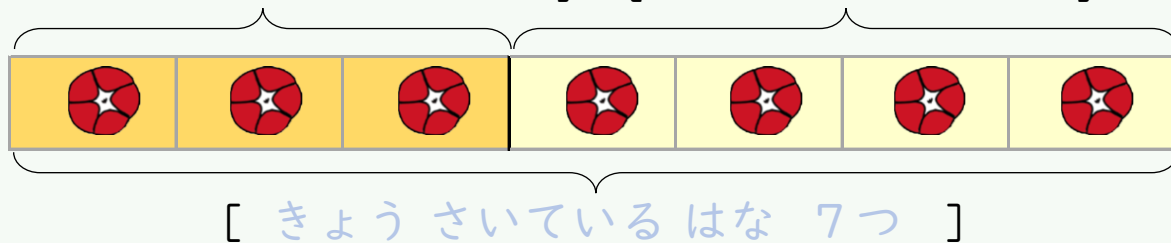


たずねて
いること

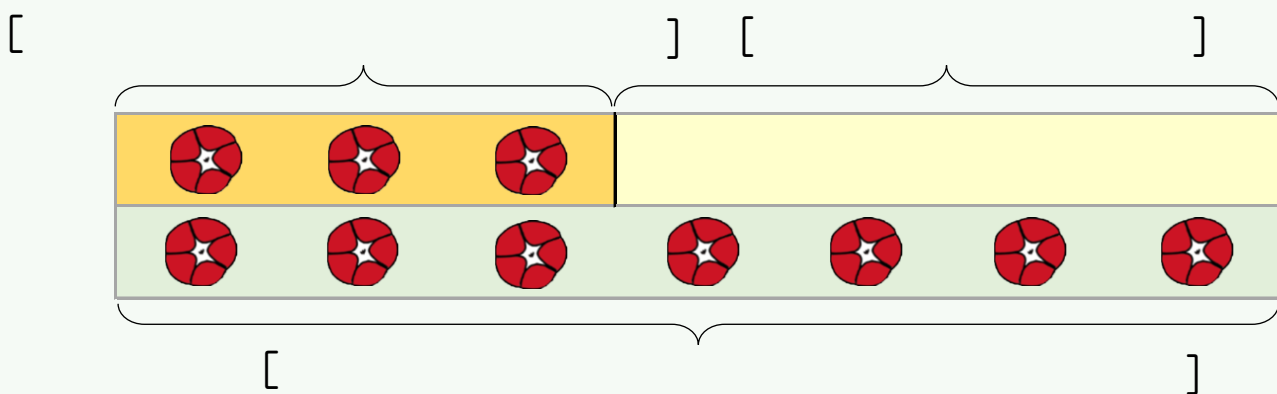
2 しきを かんがえる。

えずで かんがえる

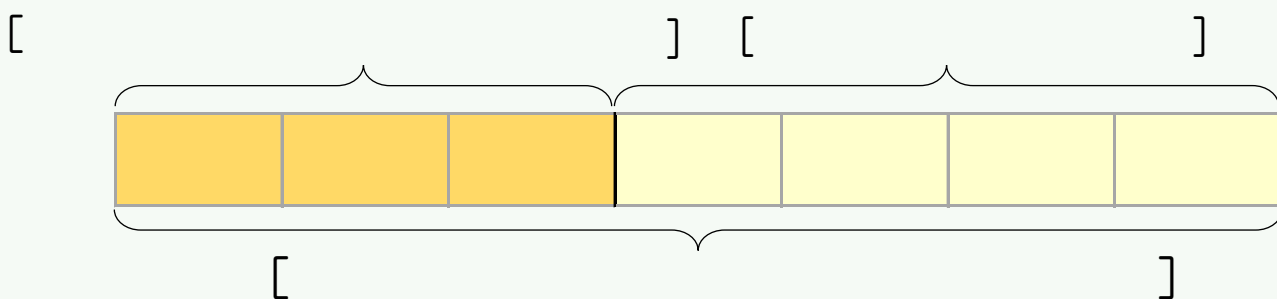
[きのう さいていた はな 3つ] [ふえた はな 4つ]



えずと テープずで かんがえる



テープずで かんがえる



3 ことばのしきを つくる。

きょう さいているはな [つ] から きのう さいていた
はな [つ] を [] ふえたはなは [つ]

きのう はなが 3つ さいていました。

きょうは 7つ さいています。

はなは いくつ ふえましたか。



たずねていることばと 2つのかずを みつける

たずねていることば

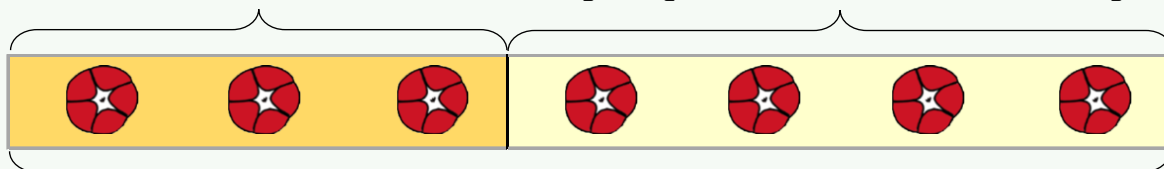
2つのかず

[きのう さいていた はな 3つ]

[きょう さいている はな 7つ]

えずで しきを かんがえる

[きのう さいていた はな 3つ] [ふえた はな 4つ]



[きょう さいている はな 7つ]

ことばのしき

きょう さいている はな [つ] から きのう さいていた
はな [つ] を [ひくと] ふえたはなは [つ]

しきと こたえ

しき

こたえ

もらったえんぴつは なんぼんですか。

きょうは ほんを 3さつ よみました。

きのうと あわせると 7さつ よみました。

きのうは なんさつ よみましたか。



たずねていることばと 2つのかずを みつける

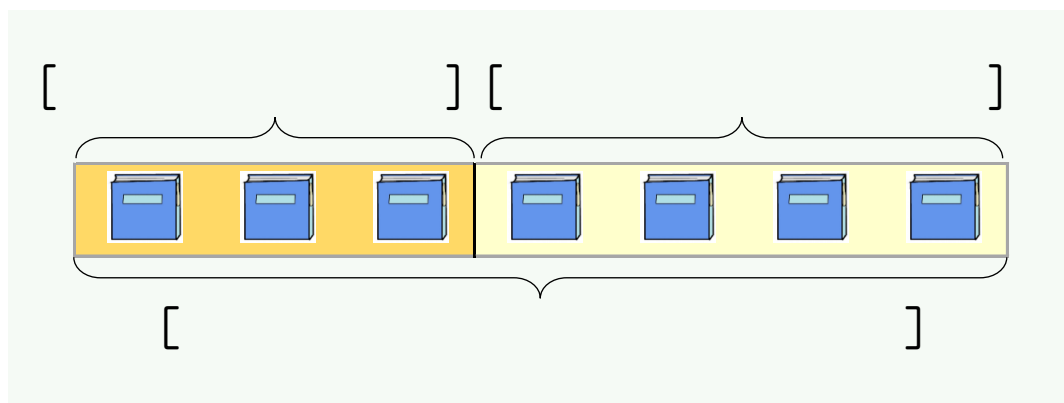
たずねていることば

2つのかず

[]

[]

えずで しきを かんがえる



ことばのしき

ぜんぶのほんのかず [さつ] から きょう よんだほん

[さつ] を [] きのう よんだほんは [さつ]

しきと こたえ


しき

こたえ

きのう はなが 3つ さいていました。

きょうは 7つ さいています。

はなは いくつ ふえましたか。



たずねていることばと 2つのかずを みつける

たずねていることば

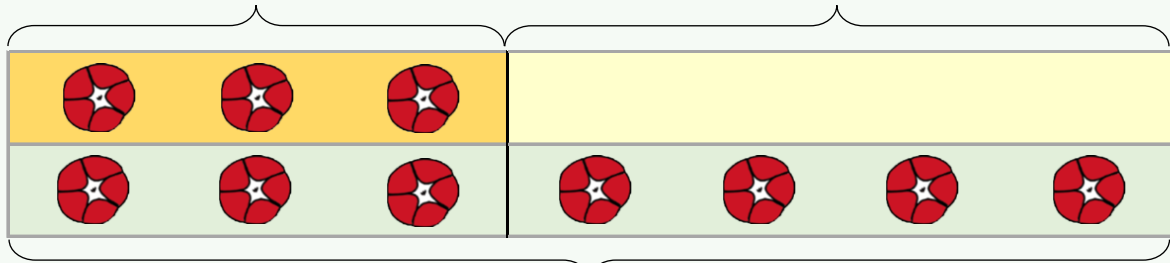
2つのかず

[]

[]

えすと テープずで しきを かんがえる

[きのう さいていたはな 3つ] [ふえた はな 4つ]



[きょう さいている はな 7つ]

ことばのしき

しきと こたえ


しき

こたえ

えんぴつを 5ほん もっていました。

おにいさんに もらったので 9ほんに なりました。

もらったえんぴつは なんぼんですか。



たずねていることばと 2つのかずを みつける

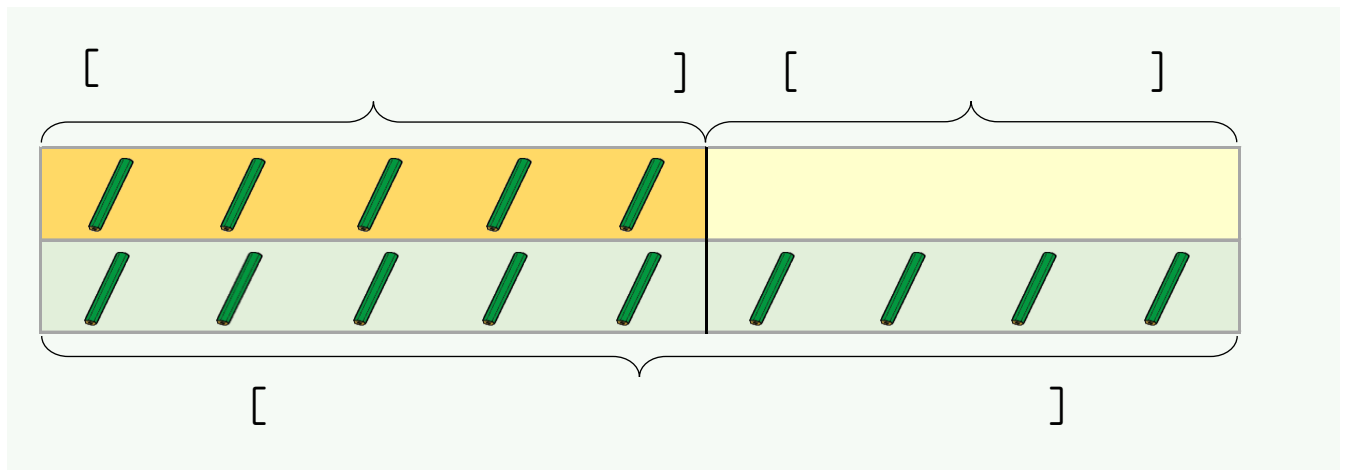
たずねていることば

2つのかず

[]

[]

えすと テープずで しきを かんがえる



ことばのしき

しきと こたえ

しき

こたえ

きょうは ほんを 3さつ よみました。

きのうと あわせると 7さつ よみました。

きのうは なんさつ よみましたか。



たずねていることばと 2つのかずを みつける

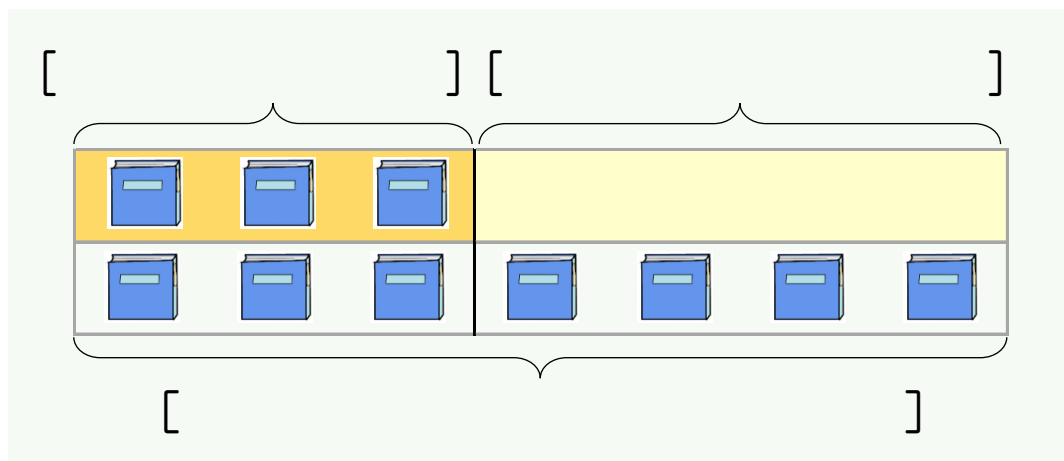
たずねていることば

2つのかず

[]

[]

えすと テープずで しきを かんがえる



ことばのしき

しきと こたえ

しき

こたえ

きのう はなが 3つ さいていました。

きょうは 7つ さいています。

はなは いくつ ふえましたか。



たずねていることばと 2つのかずを みつける

たずねていることば

2つのかず

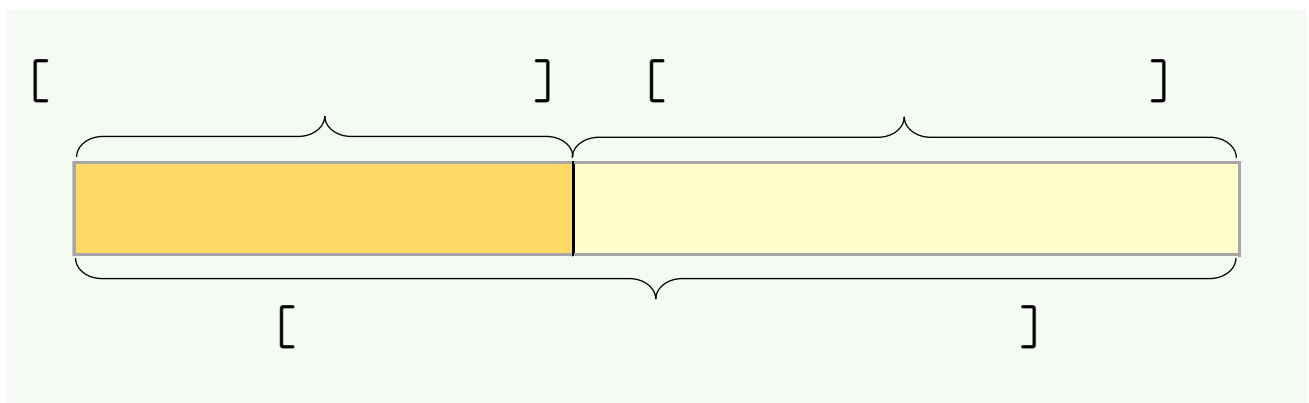
[

]

[

]

テープずで しきを かんがえる



ことばのしき

しきと こたえ

しき

こたえ

えんぴつを 5ほん もっていました。

おにいさんに もらったので 9ほんに なりました。

もらったえんぴつは なんぼんですか。



たずねていることばと 2つのかずを みつける

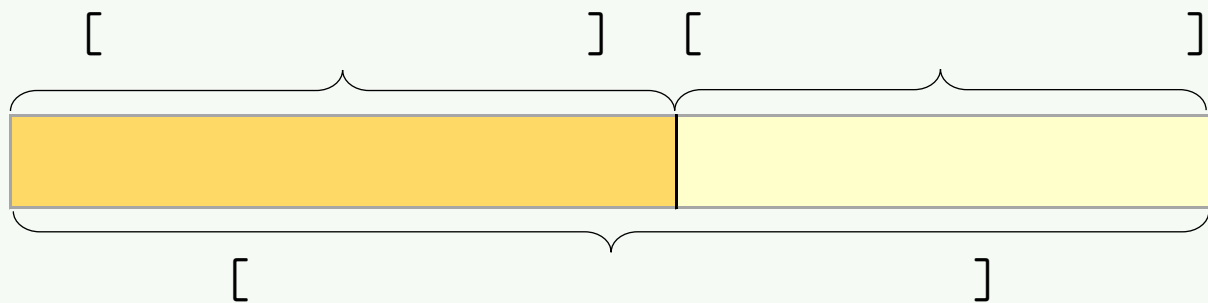
たずねていることば

2つのかず

[]

[]

テープずで しきを かんがえる



ことばのしき

しきと こたえ

しき

こたえ

きょうは ほんを 3さつ よみました。

きのうと あわせると 7さつ よみました。

きのうは なんさつ よみましたか。



たずねていることばと 2つのかずを みつける

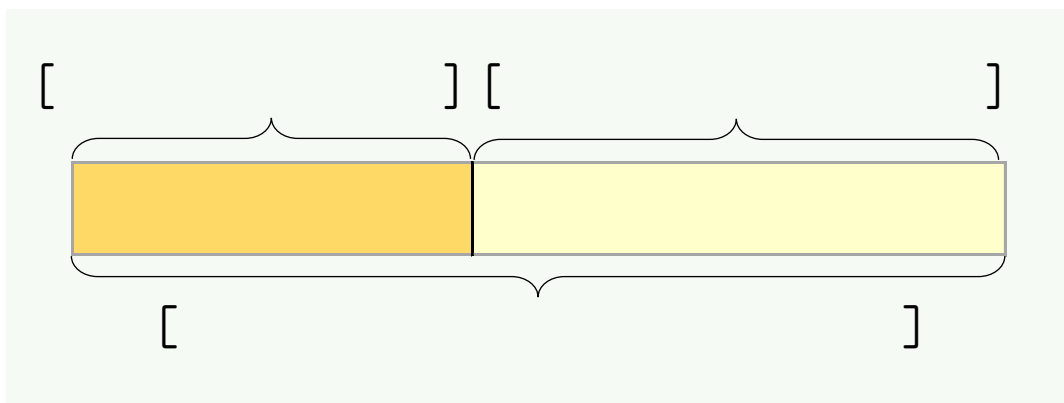
たずねていることば

2つのかず

[]

[]

テープずで しきを かんがえる



ことばのしき

しきと こたえ

しき

こたえ

たまごが 3こ あります。

なんこか もらったので 5こに なりました。

たまごを なんこ もらいましたか。



たずねていることばと 2つのかずを みつける

たずねていることば

2つのかず

[

]

[

]

えやずを かいて しきを かんがえる

ことばのしき

しきと こたえ


しき

こたえ

トマトが 2こ あります。

もらったので 8こに になりました。

トマトを なんこ もらいましたか。



たずねていることばと 2つのかずを みつける

たずねていることば

2つのかず

[

]

[

]

えやずを かいて しきを かんがえる

ことばのしき

しきと こたえ

しき

こたえ

きのう はなが 5ほん さいていました。

きょう 9ほんに なりました。

なんぼん ふえましたか。



たずねていることばと 2つのかずを みつける

たずねていることば

2つのかず

[

]

[

]

えやずを かいて しきを かんがえる

ことばのしき

しきと こたえ

しき

こたえ